



Hudební kultura se zaměřením na vzdělávání, Hra na nástroj se zaměřením na vzdělávání (jednoobor), Sólový zpěv se zaměřením na vzdělávání (jednoobor), Sborníctví chrámové hudby

1. Napište noty v houslovém klíči:



g 1                      fes 2                      b                      d 3                      as 2

2. Napište noty v basovém klíči:



H                      gis                      A 1                      e 1                      es

3. Napište předznamenání stupnic:

Fis dur - .....

h moll - .....

A dur - .....

gis moll - .....

4. Které durové stupnice mají toto předznamenání:

3 # - .....

7 b - .....

5. Které mollové stupnice mají toto předznamenání:

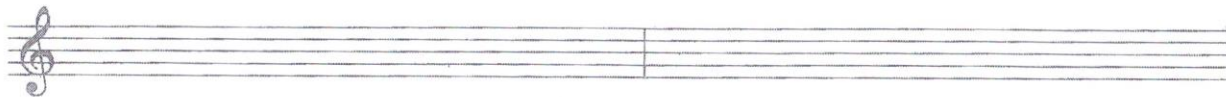
6 # - .....

4 b - .....

6. Napište dané stupnice - posuvky u not:

h moll harmonická

d moll melodická (i sestupně)



7. Od daných tónů napište intervaly:


a) vzestupné (nahoru od daných tónů)

m.2                      č.4                      v.6                      zm.5                      m.13

b) sestupné (dolů od daných tónů)

v.7                      m.3                      zv.11                      m.6                      zm.4

8. Napište akordy:



sextakord e moll

C zvětšený kvintakord


f zmenšený kvintakord

kvartsextakord b moll

sextakord H dur

kvartsextakord Fis dur

9. Napište od daného tónu tvrdě malý (dominantní) septakord a jeho obrat sekundakord:



Celkový počet bodů: ..... Za vyhodnocení zodpovídá: .....